

入学試験問題

社 会

100点満点 (50分)

(注意)

1. 問題冊子及び解答用紙は指示があるまで開かないこと
2. 問題は【1】～【4】、解答用紙は別紙
3. 試験開始後、問題冊子表紙・解答用紙に受験番号を記入すること
4. 試験終了後、問題冊子・解答用紙ともに回収

受験番号

【1】 次の各問いに答えなさい。

(1) 日本の地形、土地利用、国土に関する各問いに答えなさい。

問1. 次のア～オの各説明文を読み、誤っているものを2つ選び、記号で答えなさい。

- ア. 佐賀県には火山として知られる雲仙岳がある。
- イ. 島根県には宍道湖がある。
- ウ. 甲府盆地などは川が山地から平地に流れ出るところに、川によって運ばれた岩や石が積もってできた扇状地という地形ができる。扇状地の水はけがよい、水のしみこみやすい特徴を利用して果樹園が形成される。
- エ. 東京都と神奈川県の間で東京湾に流れ込んでいる河川は筑後川である。
- オ. 東北地方の三陸海岸は入り江の多いリアス海岸が続き、ここは波が少なくおだやかであり養殖に適している。

問2. 日本の排他的経済水域（領海を含む）の面積として適当なものを下から1つ選び、記号で答えなさい。

- ア. 38万km² イ. 447万km² ウ. 762万km²

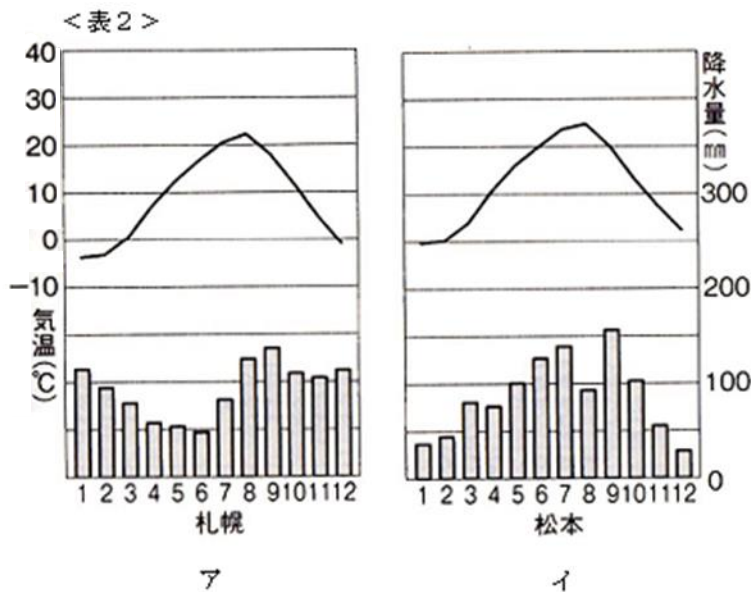
問3. 次のア～エの各説明文を読み、正しいものを1つ選び、記号で答えなさい。

- ア. 飛（び）地は存在しない。
- イ. <表1>はてんさいの収穫量を示している。表中のAに当てはまるのは長崎県である。
- ウ. 四国を流れる四万十川は瀬戸内海に流れ出る。
- エ. <表2>の雨温図におけるア、イのうち内陸性の気候に当てはまるのはイの松本である。

<表1>てんさいの収穫量

都道府県	収穫量(t)	%
A	3901000	100

『日本国勢図会2018/19』より作成する



(2) <図1>は京都東北部の地形図である。これに関する各問いに答えなさい。

問1. <図1>から読み取れるものを下から1つ選び、記号で答えなさい。

- ア. 浜大津駅から北へ向かうと大津SAがある。
- イ. 図書館はない。
- ウ. 末広町から松本まで地図上で4 cmである。実際の距離は2 kmである。
- エ. 本宮に位置する老人ホームから地形図上で西に位置する老人ホームまで地図上で8 cmである。実際の距離は2 kmである。
- オ. 琵琶湖は岐阜県にある。

問2. 琵琶湖は水質悪化が問題になったことがある。水質改善のためにある植物の保全活動が行われている。ある植物とは何か。答えなさい。

問3. 琵琶湖疎水は琵琶湖の水をある都市へ供給している。当てはまる都市を下から1つ選び、記号で答えなさい。

- ア. 奈良市 イ. 津市 ウ. 京都市 エ. 大阪市 オ. 神戸市

<図1>



<「京都東北部」 2万5000分の1 作問の都合上加工してある>

(3) <図2>はヨーロッパ州の地図である。これに関する次の各問いに答えなさい。

問1. AとBの国は(1)半島に位置している。

空欄(1)に当てはまる語句を下から1つ選び、記号で答えなさい。

ア. イベリア イ. カムチャッカ ウ. スカンディナビア

問2. Cの国名を下から1つ選び、記号で答えなさい。

ア. アイルランド イ. アイスランド ウ. フィンランド エ. グリーンランド

問3. 次のア～ウの各説明文として正しいものを1つ選び、記号で答えなさい。

ア. Dの国ではアパルトヘイトが採られた歴史がある。

イ. Dの国にはパンパが広がっている。

ウ. A～Eの国の中にASEAN加盟国はない。



(4) 南半球の国々に関する次の各問いに答えなさい。

問1. 日本の太郎とオーストラリアの都市シドニーに留学している次郎の会話文を読み、空欄 (①) ~ (③) に当てはまる語句を選択肢の中からそれぞれ選びなさい。同じ番号には同じ語句が入ります。

太郎：「日本は1月15日の9：00だよ。」


次郎：「シドニーは (①) 150度に位置するから、今は1月15日の (②) だよ。」

太郎：「<図3>はオーストラリアの国旗だけど、ヨーロッパのどこかの国旗に似ているね。」

次郎：「それはかつて (③) 系移民の増加、(③) の植民地だったことがあるからだよ。」

[イギリス 西経 17：00 フランス 10：00 東経]

<図3>



<偕成社 『世界の国旗図鑑』 作問の都合上加工してある>

問2. 日本の三郎と南アメリカ州へ観光ツアーに行行って帰国した四郎の会話文を読み、空欄 (①)・(②) に当てはまる語句を選択肢からそれぞれ選びなさい。同じ番号には同じ語句が入ります。

三郎：「南アメリカ州のベネズエラという国には (①) 高地があり、切り立った崖は1000m近くの高差があるらしいね。」

四郎：「南アメリカ州は (①) 高地だけでなく、ブラジルのアマゾン盆地、アンデス山脈など様々な地形があるよ。」

三郎：「アルゼンチンは (②) に流れ込むラプラタ川が流れていると聞いたことがある。」

四郎：「南アメリカ州はその豊かな自然にふれる観光ツアーも人気だよ。三郎も僕と一緒に観光ツアーに行こうよ。」

三郎：「楽しみだね。」

[太平洋 ギアナ 北上 インド洋 地中海 大西洋]

【2】次の年表を見て、各問いに答えなさい。

- 1543 a 鉄砲が伝わる
1560 b 桶狭間の戦いがおこる
1575 c 長篠の戦いがおこる
1582 d 本能寺の変がおこる
1585 (e), 関白となる
1588 f 刀狩令を出す
(g) (e), 全国統一を果たす

問1. 下線部 a について、次の短文の空欄に当てはまる地名を漢字で答えなさい。

鉄砲は戦国大名に注目され、各地に広まり、大阪府の堺や滋賀県の()などでは、刀鍛冶の職人によって鉄砲がさかんにつくられるようになりました。

問2. 下線部 b について、この戦いで敗れたのは誰か。漢字で答えなさい。

問3. 下線部 c について、この戦いで敗れたのは誰か。漢字で答えなさい。

問4. 下線部 d について、この戦いで自害したのは誰か。漢字で答えなさい。

問5. 空欄 (e) は誰か。漢字で答えなさい。

問6. 下線部 f について、次の史料(部分要約してある)の空欄に当てはまる語句を下から1つ選び、記号で答えなさい。

諸国の百姓が刀やわきざし、弓、やり、鉄砲、そのほかの武具などを持つことは、かたく禁止する。不必要な武具をたくわえ、年貢その他の税をなかなか納めず、ついには()をくわだてたりして、領主に対してよからぬ行為をする者は、もちろん処罰する。

ア. 暴動 イ. 一揆 ウ. 逃亡 エ. 引越

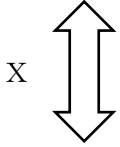
問7. 空欄 (g) に当てはまる西暦は何年か。答えよ。

問8. 次の文章を読んで、空欄 ①～⑤ に当てはまる語句を、次の中からそれぞれ記号で答えなさい。

桃山文化を代表するのは、安土城などの壮大な城です。城の室内には①が取り入れられ、柱や欄間には豪華な彫刻がなされ、屏風などには「唐獅子図屏風」で有名な②などの画家によってはなやかな絵がえがられました。また、茶の湯は大名や大商人たちの交流の場になり、流行しました。堺の豪商③は、質素さと静かさを重んじるわび茶の作法を完成しました。京都では出雲の④が歌舞伎を始め、堺では琉球から伝わった三線をもとに⑤がつけられました。

ア. 三味線 イ. 寝殿造 ウ. 雪舟 エ. 狩野永徳 オ. 世阿弥
カ. 千利休 キ. 書院造 ク. 阿国 ケ. 俵屋宗達 コ. 能

【3】次の年表を見て、各問いに答えなさい。

1840	a <u>アヘン戦争</u> がおこる
1853	ペリーが (b) に来航する
1857	c <u>インド大反乱</u> がおこる
1858	日米修好通商条約が結ばれる
	X 
1867	王政復古の号令が出される

問1. 下線部 a について、後の各問いに答えなさい。

①この戦争後に結ばれた条約は何か。漢字で答えなさい。

②前問①の条約によって、中国からイギリスにゆずられた地域はどこか。漢字で答えなさい。

③この戦争によって、江戸幕府が外国に対して、どのような対応をとりましたか。簡単に説明しなさい。但し、
[異国船 (外国船) 打払令] という用語を必ず使用すること。

問2. 空欄 b に当てはまる地名はどこか。漢字で答えなさい。

問3. 下線部 c について、この反乱がおきた原因の1つが次の短文である。空欄に当てはまる語句を漢字1字で答えなさい。

産業革命後、イギリスの安い () 織物が大量に流入し、伝統的なインドの () 織物業が打撃を受けたから。

問4. 次のア～エは、年表中の X の期間に起こった出来事である。起こった順に記号で並び変えなさい。

- ア. 鳥羽・伏見の戦いが起こる
- イ. 安政の大獄が起こる
- ウ. 薩英戦争が起こる
- エ. 薩長同盟が結ばれる

問5. 次の文章を読んで、空欄 (①) ～ (⑤) に当てはまる語句を、次の中からそれぞれ記号で答えなさい。

明治新政府は、欧米諸国に対抗するため、経済を発展させて国力をつけ、軍隊を強くすることを目指しました。新しい国づくりのためのこれらの政策を「(①)」といいます。政府は、経済発展の基礎になる、交通や通信の整備を進めました。1872年に(②)・横浜間に鉄道が開通し、通信では、(③)にかわる郵便制度が整えられました。また、日本の輸出の中心であった生糸の増産などを図るため、群馬県の(④)などの官営模範工場をつくりました。

一方、近代化の政策をきっかけとして、西洋の文化を取り入れる動きも活発になり、人々の思想や信仰、生活様式などに大きな影響をもたらしました。こうした風潮を(⑤)といいます。

- ア. 関所 イ. 神戸 ウ. 富国強兵 エ. 明治維新 オ. 八幡製鉄所
- カ. 新橋 キ. 飛脚 ク. 文明開化 ケ. 殖産興業 コ. 富岡製糸場

【4】次の文章を読んで、各問いに答えなさい。

- ①A. 権力が集中して強大になると、法が守られず、私たちの権利や自由がおびやかされる危険があります。そこで、国の権力を立法権・行政権・司法権に分けて、たがいに抑制と均衡をはかる (①) の考え方が採用されています。
- B. わが国には、「男性は仕事、女性は家事と育児」という固定的な役割分担意識が根強く残っています。そこで、1999 (平成11) 年に、(②) 基本法が制定されました。これは男女がともに、あらゆる分野で協力し、活動できる (②) をつくろうとするものです。
- ②A. 日本国憲法は、(③) の自由を保障しています。(③) の自由には、思想・良心の自由や、集会・結社・表現の自由などがあります。また、憲法は生命・身体の自由も保証しています。生命・身体の自由とは、国民に健康で文化的な最低限度の生活を営む権利を保障することです。
- B. 国民が主権者として、政治について正しい判断をするためには、国や地方公共団体の活動や情報を知る必要があります。この権利をプライバシーの権利といいます。そのため、国や地方公共団体では (④) 制度が設けられ、人々の請求に応じて、その活動や情報を開示しています。
- ③A. 裁判には民事裁判と (⑤) があります。民事裁判とは、貸したお金を返してもらえない場合、建てた家に欠陥があった場合など、私人 (個人や企業など) の間の争いについての裁判です。また、司法制度改革の一環として、2009 (平成21) 年に、国民が裁判官とともに (⑤) を行う (⑥) 制度が始まりました。
- B. 国会の議決は、衆議院と参議院の議決の一致によって成立します。両院の議決が異なったときは、意見を調整するために (⑦) が行われることがあります。それでも意見が一致しない場合は、いくつかの重要な点で参議院の議決を優先させるなど、参議院の優越が認められています。
- ④A. 現在、日本の労働者のおよそ4割が、パートタイム、アルバイト、派遣社員、契約社員などの (⑧) です。(⑧) は正社員と同じ仕事をするため、賃金は高く、労働条件も安定しているので、安定した生活を営むことができます。
- B. お金の余裕がある人や企業と、お金の不足している人や企業との間で、お金の貸し借りをすることを金融といいます。金融には、企業などの借り手が株式や債権を発行して出資者からお金を調達する (⑨) 金融と、銀行などの金融機関を通じてお金を調達する (⑩) 金融があります。

問1. 空欄 (①) ~ (⑩) に当てはまる語句を答えなさい。同じ番号には同じ語句が入ります。また、空欄はすべて漢字で答えなさい。

問2. 上記の①~④のAとBの二つの文中の下線部について、AとBがともに正しい場合にはアを、Aが正しくBが誤りの場合にはイを、Aが誤りでBが正しい場合にはウを、AとBがともに誤りの場合にはエを、それぞれ答えなさい。

問3. 国会はたいせつな仕事をいくつもしています。たくさんある国会の仕事の中から、いずれか二つを答えなさい。但し、順序は問いません。

